

**Задача 1.** Совершенно бесхитростная задача на проценты. Пусть в городе X живет  $x$  человек, в городе Y –  $y$  человек, в психбольницах –  $z$  человек. Запишем общее количество, проголосовавших за каждую партию. Теперь главное – не раскрывать скобки! Поделим каждое уравнение на общую численность населения в стране и введем новые переменные ( $a, b, c$ ) – доли жителей, голосовавших на разных избирательных участках:

$$\begin{cases} 0.375x + 0.425y + z = 0.708(x + y + z) \\ 0.3125x + 0.4y = 0.164(x + y + z) \\ 0.225x + 0.15y = 0.096(x + y + z) \\ 0.0875x + 0.025y = 0.032(x + y + z) \end{cases} \Leftrightarrow \begin{cases} 0.375a + 0.425b + c = 0.708 \\ 0.3125a + 0.4b = 0.164 \\ 0.225a + 0.15b = 0.096 \\ 0.0875a + 0.025b = 0.032 \end{cases}$$

Найдем  $a, b$  из последних двух уравнений: вычтем их, домножив первое из них на 5, а

второе на 30:  $\begin{cases} (1.125 - 2.625)a = 0.48 - 0.96 \\ 0.15b = 0.096 - 0.225a \end{cases}$ , откуда

$$\begin{cases} a = \frac{0.48}{1.5} = 0.32 = 32\% \\ b = \frac{0.096 - 0.072}{0.15} = \frac{24}{150} = 0.16 = 16\% \end{cases}$$

Ну, а теперь найдем долю граждан в психбольницах:

$100 - 32 - 16 = 52$ . Теперь осталось не забыть (!) проверить, что первым двум уравнениями системы эти числа удовлетворяют. Забыть об этом означает, согласиться с утверждением «если по двум последним партиям нет фальсификаций, то и по лидирующим тоже нет».

Ответ: 52%

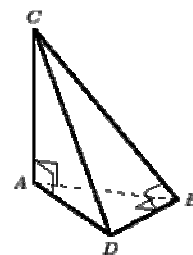
## Задача 2.

Да, можно.

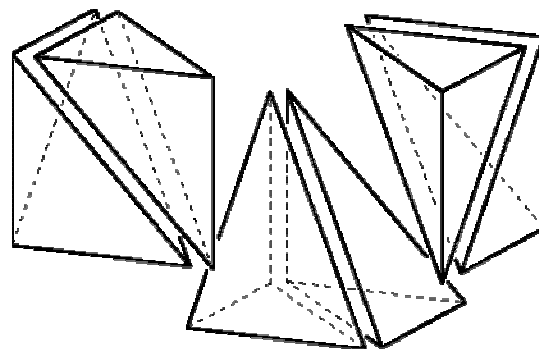
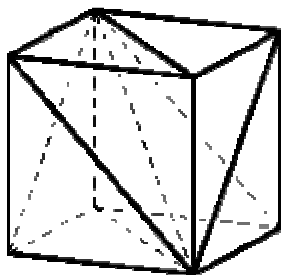
Возьмём, к примеру, тетраэдр  $ABCD$ , показанный на рис.

В нём  $CA = AB = BD$  и  $\angle CAB = \angle CAD = \angle ABD = \angle CBD = 90^\circ$ .

Возможны несколько способов замощения пространства такими тетраэдрами.



**Решение 1.** Тетраэдр  $ABCD$  и симметричный ему относительно плоскости  $ADC$  образуют четырехугольную пирамиду с квадратным основанием, одно из боковых ребер которой перпендикулярно основанию и равно его стороне (рис.). Из трех таких пирамид можно составить куб, как показано на рис. Очевидно, что кубами пространство замостить можно.



**Решение 2.** Рассмотрим правильную четырехугольную пирамиду, образованную центром куба и его гранью. У нее есть четыре плоскости симметрии, разрезающие ее на 8 тетраэдров, подобных  $ABCD$ . Следовательно, куб можно разрезать на 48 таких тетраэдров.

**Решение 3.** Объединив тетраэдр  $ABCD$  и симметричный ему относительно плоскости  $ABC$ , получим тетраэдр, основанием которого является равнобедренный прямоугольный треугольник, а высотой - боковое ребро, проходящее через вершину прямого угла. Из двух таких тетраэдров, симметричных относительно общей боковой грани, составим тетраэдр с равнобедренным прямоугольным треугольником в основании и высотой, падающей в середину гипотенузы. Наконец, из двух таких тетраэдров можно составить тетраэдр, подобный  $ABCD$ . (Чтобы убедиться в этом, достаточно разрезать  $ABCD$  по плоскости, проходящей через  $A$ ,  $B$  и середину  $CD$ .) Таким образом, из 8 тетраэдров, равных  $ABCD$ , можно составить подобный им тетраэдр вдвое большего размера. Повторяя этот процесс, получим искомое замощение пространства.

### Задача 3.

**Решение 1. Скользкое, но простое.**

Докажем, что

$$(1 - x + x^2 - x^3 + \dots - x^{99} + x^{100})(1 + x + x^2 + x^3 + \dots + x^{99} + x^{100}) = 1 + x^2 + x^4 + \dots + x^{200}$$

. Действительно, при  $x = \pm 1$  равенство очевидно, а при прочих  $x$  проведем такие

преобразования: 
$$(1 - x + x^2 - x^3 + \dots - x^{99} + x^{100})(1 + x + x^2 + x^3 + \dots + x^{99} + x^{100}) =$$

$$= \frac{1 + x^{101}}{1 + x} \cdot \frac{1 - x^{101}}{1 - x} = \frac{1 - x^{202}}{1 - x^2} = 1 + x^2 + x^4 + \dots + x^{200}$$

**Решение 2. Функциональное.**

$$f(x) = (1 - x + x^2 - x^3 + \dots - x^{99} + x^{100})(1 + x + x^2 + x^3 + \dots + x^{99} + x^{100})$$

$$f(-x) = (1 + x + x^2 + x^3 + \dots + x^{99} + x^{100})(1 - x + x^2 - x^3 + \dots - x^{99} + x^{100}) = f(x)$$

Значит,  $f(x)$  – четная функция, а многочлен является четной функцией тогда и только тогда, когда в его стандартном виде нет слагаемых нечетной степени.

**Решение 3. Элементарное.**

$$(1 - x + x^2 - x^3 + \dots - x^{99} + x^{100})(1 + x + x^2 + x^3 + \dots + x^{99} + x^{100}) =$$

$$= (1 + x^2 + x^4 + \dots + x^{98} + x^{100} - x(1 + x^2 + x^4 + \dots + x^{98})) \times$$

$$(1 + x^2 + x^4 + \dots + x^{98} + x^{100} + x(1 + x^2 + x^4 + \dots + x^{98})) =$$

$$= (1 + x^2 + x^4 + \dots + x^{98} + x^{100})^2 - x^2 (1 + x^2 + x^4 + \dots + x^{98})^2$$

**Задача 4. Решение 1. Примитивное.** Составим табличку:

	Проголосовали за партию рыцарей	Проголосовали за партию лжецов
Количество рыцарей	$a$	$b$
Количество лжецов	$c$	$d$

Тогда партия лжецов набрала  $\frac{b+d}{N} = 0.7$ , но при участии в exit poll'e  $\frac{b+c}{N} = 0.5$  указали, что голосовали за партию лжецов. Тогда  $b + d = 0.7N$ ,  $b + c = 0.5N$ ,  $a + c = 0.3N$ , где  $N = a + b + c + d$  - общее число жителей. Тогда,  $b - a = 0.2N$  и, значит,  $b \geq 0.2N$ . Тогда общее количество рыцарей  $a + b \geq 0.2N$ , а лжецов  $c + d \leq 0.8N$ , откуда и получаем требуемое.

**Решение 2. Высокonaучное.** Обозначив через  $x$ , долю жителей в какой-то из клеток таблицы, запишем:

	Проголосовали за партию рыцарей	Проголосовали за партию лжецов
Количество рыцарей	$x$	$0.5 - (0.3 - x) = 0.2 + x$
Количество лжецов	$0.3 - x$	$0.7 - (0.2 + x) = 0.5 - x$

Теперь осталось доказать, что значения функции  $\frac{0.2+2x}{0.8-2x}$  заключены в диапазоне  $[0.25; 4]$  при допустимых значениях переменной  $x$ , то есть при  $x \in [0; 0.3]$ . Нарисуем соответствующую гиперболу и убедимся, что это правда.

**Задача 5.** Да, могло. Пусть в турнире участвовало 13 команд. Назовём одну из команд "особенной". Пусть "особенная" команда выиграла 5 матчей, а 7 матчей проиграла, и все остальные матчи закончились вничью. Тогда в этом году у "особенной" команды  $3 \cdot 5 = 15$  очков, а у других команд, которые выиграли у "особенной", по  $3 + 11 \cdot 1 = 14$  очков. Очевидно, команды, проигравшие "особенной", набирают меньше, чем 14 очков. Таким образом, "особенная" команда занимает в этом году первое место. При использовании в этом году прошлогодней системы подсчёта очков "особенная" команда оказалась бы последней, так как набрала бы  $5 \cdot 2 = 10$  очков, а у других команд, которые проиграли "особенной", по  $11 \cdot 1 = 11$  очков.

P.S. Всё во власти Василия Павловича!

**Задача 6.**

**Решение 1. Функциональное.** В силу симметричности уравнения относительно  $a, b$  и  $c$ , н.у.о. будем считать, что  $a < b < c$ .

$$\frac{1}{x-a} + \frac{1}{x-b} + \frac{1}{x-c} = 0 \Leftrightarrow \frac{(x-b)(x-c) + (x-a)(x-c) + (x-a)(x-b)}{(x-a)(x-b)(x-c)} = 0 \Leftrightarrow$$

$$\Leftrightarrow \begin{cases} (x-b)(x-c) + (x-a)(x-c) + (x-a)(x-b) = 0 \\ (x-a)(x-b)(x-c) \neq 0 \end{cases} \quad (1)$$

Пусть  $(x-b)(x-c) + (x-a)(x-c) + (x-a)(x-b) = f(x)$ . Заметим, что:

$$f(a) = (a-b)(a-c) \Rightarrow f(a) > 0 \quad (a < b, a < c)$$

$$f(b) = (b-a)(b-c) \Rightarrow f(b) < 0 \quad (b > a, b < c)$$

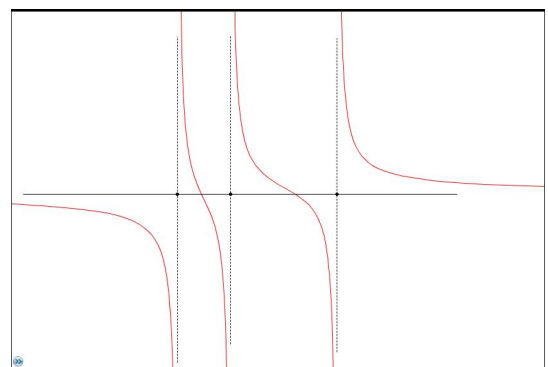
$$f(c) = (c-a)(c-b) \Rightarrow f(c) > 0 \quad (a < b, a < c)$$

Функция  $f(x)$  непрерывна;  $f(a) > 0$  и  $f(b) < 0$ , значит, у функции существует корень  $x_1$  на интервале  $(a; b)$ . Аналогично существует корень  $x_2$  на интервале  $(b; c)$ . Функция  $f(x)$  – квадратичная, следовательно корней у нее не больше двух, причем оба этих корня удовлетворяют условию (1), следовательно у исходного уравнения ровно 2 корня.

**Решение 2. Тривиальное.** Раскроем скобки в числителе, напишем дискриминант полученного квадратного уравнения, заметим, что его можно представить в виде  $2(a-b)^2 + 2(a-c)^2 + 2(b-c)^2 > 0$ , поскольку  $a, b, c$  различны. Осталось проверить, что  $a, b, c$  не являются корнями числителя, то есть оба корня числителя удовлетворяют ОДЗ. Кстати, эту проверку удобнее всего делать, когда дроби к общему знаменателю уже приведены, а скобки в числителе еще не раскрыты.

**Решение 3. То же решение 2, но пересказанное на высоконаучный лад.** Приведем к общему знаменателю, перепишем числитель через элементарные симметрические полиномы:  $x^2 - 2\sigma_1 x + \sigma_2 = 0$ .  $\frac{D}{4} = \sigma_1^2 - 4\sigma_2 \geq 0$  – это известное неравенство для симметрических полиномов от трех переменных, равенство в нем достигается только при совпадающих  $a, b, c$ . Осталось проверить, что  $a, b, c$  не являются корнями числителя, то есть оба корня числителя удовлетворяют ОДЗ.

**Решение 4. Графическое.** Все три слагаемых – функции, убывающие на каждом промежутке своей области определения. Значит, их сумма тоже убывает на каждом промежутке своей области определения. Пределы в каждой точке разрыва равны  $\pm\infty$ , поскольку в каждой точке разрыва одно из трех слагаемых имеет такой предел, а два других конечны. Пределы в  $\pm\infty$  равны  $\pm 0$  соответственно. Итак, вид графика понятен (см. рис.).



По графику устанавливаем, что корней 2.

**Задача 7. Решение 1. Упорядоченное.** Нетрудно заметить, что все возможные решения будут положительны. Из первого уравнения имеем:  $2y = x^2 + 1 \geq 2x$ , то есть  $y \geq x$ . Аналогично  $y \geq x$  и  $y \geq x$ . Отсюда получаем, что необходимое условие  $x = y = z$ . Далее очевидно. Ответ:  $x = y = z = 1$ .

**Решение 2. Симметричное.** Домножим все равенства на 2 и сложим:

$x^2 + 1 + y^2 + 1 + z^2 + 1 = 2y + 2z + 2x \Leftrightarrow (x-1)^2 + (y-1)^2 + (z-1)^2 = 0$ , откуда следует, что  $x = y = z = 1$ . Осталось заметить, что этот набор подходит.

Ответ:  $x = y = z = 1$

**Задача 8.** Раз числа  $x^{177}$  и  $x^{221}$  рациональны, то и число  $x^{221}/x^{177} = x^{44}$  рационально, а значит рациональны числа  $x^{176} = (x^{44})^4$  и само число  $x = x^{177}/x^{176}$ .

Вопрос. А если известно, что рациональны числа  $x^{77}$  и  $x^{121}$ , то можно ли утверждать что число  $x$  рационально?

**Задача 9.**

Решение:  $S_{ABC} = 2 S_{ABB_1} = 2 \cdot \frac{1}{2} \cdot AO \cdot BB_1 = AO \cdot BB_1 = \frac{2}{3} AA_1 \cdot BB_1 = \frac{2}{3} \cdot 3 \cdot 4 = 8$ .

Первый переход верен, т. к. высота треугольников общая,  $B_1$  – середина  $AC$ , четвертый переход – т. к.  $O$  делит медианы в отношении 2:1.

